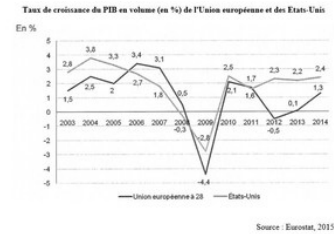


#2 Lecture de taux de croissance annuels moyens du PIB

But:

1. Sur ce document, on peut lire le taux de croissance du PIB pour chaque année. Par exemple, on peut dire que :

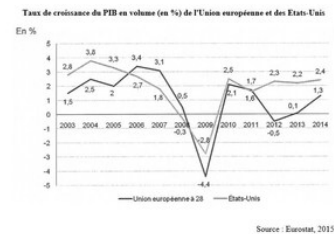
- A En 2014, le PIB des Etats-Unis a augmenté de 2,4%
- B En 2014, le PIB des Etats-Unis était de 2,4%
- C Le taux de croissance du PIB des Etats-Unis a augmenté de 2,4% en 2014
- D Le taux de croissance du PIB des Etats-Unis était de 2,4% en 2014



2. Comme on le voit sur ce document, le taux de croissance du PIB n'est quasiment jamais le même d'une année sur l'autre. En effet, le PIB augmente plus ou moins fortement chaque année (et il a même diminué en 2009, son taux de croissance étant alors négatif).

Or, il peut être intéressant d'étudier le taux de croissance en moyenne annuelle sur l'ensemble d'une période. N'est-ce pas vrai ?

- A Vrai
- B Faux



3. Dans ce tableau sont représentés les taux de croissance annuels moyens du PIB mondial par grandes périodes.

Quelle est la bonne lecture du chiffre correspondant à la période 1820-1870 ?

- A Entre 1820 et 1870, le PIB mondial en volume a augmenté de 0,93% en moyenne chaque année

L'évolution des taux de croissance mondiaux

Croissance annuelle moyenne en %	1820-1870	1870-1913	1913-1950	1950-1973	1973-1998	1998-2008	2008-2012
PIB mondial en volume	0,93	2,11	1,85	4,91	3,01	4,4	3,03

A. Maddison, Le Cercle des économistes, 2010; OCDE, à partir de 2008

- B Entre 1820 et 1870, le PIB mondial en volume a augmenté de 0,93%
- C Entre 1820 et 1870, le taux de croissance du PIB mondial en volume a augmenté de 0,93% en moyenne chaque année

4. Passons à la période 1950-1973.

Quelle est la bonne lecture du chiffre correspondant à cette période ?

- A Entre 1950 et 1973, le PIB mondial en volume a augmenté de 4.91% en moyenne chaque année

L'évolution des taux de croissance mondiaux

Croissance annuelle moyenne en %	1820-1870	1870-1913	1913-1950	1950-1973	1973-1998	1998-2008	2008-2012
PIB mondial en volume	0,93	2,11	1,85	4,91	3,01	4,4	3,03

A. Maddison, Le Cercle des économistes, 2010; OCDE, à partir de 2008

- B Entre 1950 et 1973, le PIB mondial en volume a augmenté de 4.91%
- C Entre 1950 et 1973, le taux de croissance du PIB mondial en volume a augmenté de 4.91% en moyenne chaque année

5. Comment appelle-t-on cette période allant de 1950 à 1973 ?

- A Les Trente Glorieuses
- B Les Vingt-trois Vigoureuses
- C La Grande Croissance
- D Cette période n'a pas de dénomination particulière

6. Si on compare la période 1998-2008 et la période 2008-2012, que peut-on dire ?

- A La croissance du PIB mondial en volume a reculé
- B La croissance du PIB mondial en volume a ralenti
- C Le taux de croissance du PIB mondial en volume a diminué
- D Le PIB mondial en volume a augmenté moins vite entre 2008 et 2012 qu'entre 1998 et 2008
- E Le PIB mondial en volume a diminué de 1,37% entre les deux périodes

L'évolution des taux de croissance mondiaux

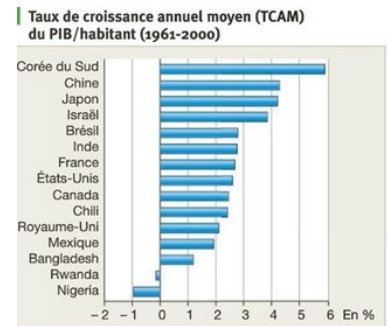
Croissance annuelle moyenne en %	1820-1870	1870-1913	1913-1950	1950-1973	1973-1998	1998-2008	2008-2012
PIB mondial en volume	0,93	2,11	1,85	4,95	3,01	4,4	0,93

A. Maddison, Le Cercle des économistes, 2010 ; OCDE, à partir de 2008

7. Dans ce document, il s'agit de comparer la croissance annuelle moyenne du PIB/hab entre plusieurs pays.

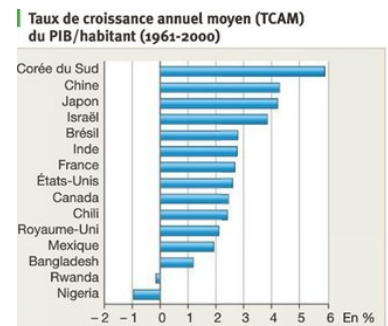
Quelle(s) phrase(s) correspond(ent) au chiffre de la Corée du Sud ?

- A Entre 1961 et 2000, le PIB/hab de la Corée du Sud a augmenté de 5,9% en moyenne par an
- B Entre 1961 et 2000, le PIB/hab de la Corée du Sud était de 5,9% en moyenne par an
- C Entre 1961 et 2000, le PIB/hab de la Corée du Sud a augmenté de 5,9%
- D Entre 1961 et 2000, le taux de croissance du PIB/hab de la Corée du Sud a augmenté de 5,9% en moyenne par an
- E Entre 1961 et 2000, le taux de croissance du PIB/hab de la Corée du Sud était de 5,9%



8. Passons au Nigéria. Sélectionnez la ou les phrase(s) correcte(s).

- A Entre 1961 et 2000, le PIB/hab du Nigéria a diminué de 1% en moyenne par an.
- B Entre 1961 et 2000, le PIB/hab du Nigéria était de -1% en moyenne par an
- C Entre 1961 et 2000, le PIB/hab du Nigéria a diminué de 1%
- D Entre 1961 et 2000, le taux de croissance annuel moyen du PIB/hab du Nigéria était de -1%
- E Entre 1961 et 2000, le taux de croissance du PIB/hab du Nigéria a diminué de 1% en moyenne par an

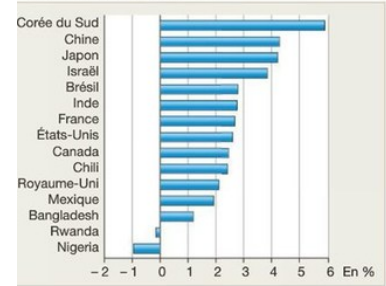


9. Test de compréhension :

Entre 1961 et 2000, le PIB/hab de la Corée du Sud est plus élevé que celui des États-Unis

- A True
- B False

Taux de croissance annuel moyen (TCAM) du PIB/habitant (1961-2000)



10. Test de compréhension :

Entre 1961 et 2000, le PIB/hab de la Corée du Sud a plus augmenté que celui des États-Unis.

- A True
- B False

Taux de croissance annuel moyen (TCAM) du PIB/habitant (1961-2000)

